

PONEDELJEK, 6. 4. 2020

SLOVENŠČINA: Črno belo - pravljica

https://www.youtube.com/watch?time_continue=241&v=D_zSyEWdsWc&feature=emb_title

Oglejte si posnetek - nekajkrat. Na liste narišite delčke pravljice, da se boste lažje pripravili na pripovedovanje. Postavite se v vlogo pripovedovalca in ob slikah pripovedujte. Se vam zdi oder zanimiv? Razmislite, kako bi ga vi pripravili (kartonska škatla, tabla, velika deska, stol ...).

MATEMATIKA: Pisno preverjanje znanja

Na učnem listu rešite naloge. Pazljivo preberite navodila. Da vam bo lažje, računajte pisno. Želim vam obilo uspeha. Lahko si privoščiš odmor!

GLASBENA UMETNOST: Tuba Luba – glasbeni posnetek z besedilom

https://www.youtube.com/watch?v=trqQ5FHOX_g

Odprite povezavo. Poslušajte posnetek. Ker je besedilo napisano, lahko kar požete zraven.

Naslov pesmi zapišite v zvezek in ilustrirajte.



Pisno preverjanje znanja - MATEMATIKA

1. Izračunaj.

$$35 + 46 = \square$$

$$34 + 27 = \square$$

$$74 - 39 = \square$$

$$93 - 26 = \square$$

2. Izračunaj.

$$\square + 7 = 18$$

$$4 + \square = 16$$

$$15 - \square = 8$$

$$\square - 3 = 11$$

3. Izračunaj.





$$\square + 53 = 72$$

$$48 + \square = 83$$

$$52 - \square = 18$$

$$\square - 25 = 37$$

4. Izpolni preglednico.

				
Ime telesa				
Št. mejnih ploskev				
Število robov				
Število oglišč				

5. Dopolni preglednico.

	VALJ	KVADER		KROGLA
Število robov			12	
Število mejnih ploskev			6	
Število oglišč			8	

6. Dopolni preglednico in odgovori na vprašanja!

Učenci so si izbrali svoje najljubše pravljичne like. Podatke so prikazali v preglednici.

UČENEC	RDEČA KAPICA	PETER PAN	SNEGULJČICA	ŽOGICA NOGICA	Število likov:
JURE	X	X		X	
MIHA		X	X		
EMA	X		X		
AMADEJ	X	X		X	
KLARA		X	X	X	
LEON				X	
LUCIJA	X	X		X	
MANCA		X	X	X	
REBEKA	X			X	
NATAŠA	X	X		X	
Skupaj:					

Kateri pravljичni lik je bil izbran največkrat?

Koliko otrok je izbralo Rdečo Kapico?

Ali je Miha izbral Sneguljčico?

Kdo je izbral samo en pravljичni lik?

Koliko otrok je izbralo tri pravljичne like?

Koliko otrok je izbralo Rdečo kapico in hkrati Petra Pana?

7. Reši besedilno nalogo.

Na loteriji so prvi dan prodali 18 srečk. Naslednji dan so jih prodali 14 več. Tretji dan pa so jih prodali 17 manj kot drugi dan.

Koliko srečk so prodali prvi in tretji dan skupaj?

1.dan	2.dan	3.dan

Račun:

Odgovor:

