

PONEDELJEK, 20. 4. 2020

SLOVENŠČINA, GLASBENA UMETNOST: Huda mravljica

Poslušaj pesem na povezavi: <https://www.youtube.com/watch?v=loDtTAz5DcU>. Zapoj skupaj z Romano.

V glasbeni zvezek prepisi besedilo pesmi. Najdeš jo na spodnjem listu. Pazi na čitljiv zapis. Pesem se nauči na pamet.

MATEMATIKA: Pisno preverjanje znanja

Na učnem listu rešite naloge. Pazljivo preberite navodila. Da vam bo lažje, računajte pisno. Želim vam obilo uspeha.



HUDA MRAVLJICA

BILA JE HUDA MRAVLJICA ,
ŠEST ČRNIH NOG JE IMELA,
JE MIGALA, JE VOHALA,
JE ČISTO PONORELA.

BILA JE HUDA MRAVLJICA,
PO TRGU JE HODILA,
LONČARJU JE ČEZ PISKRE ŠLA
PA VSE MU JE POBILA.

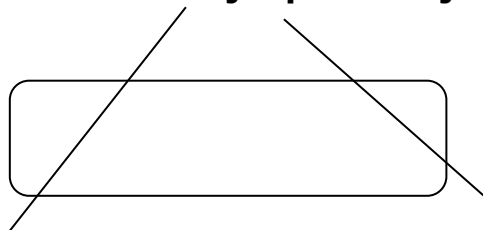
IN KAMOR KOLI JE PRIŠLA,
SO VSI PRED NJO BEŽALI,
JE POKALO, JE STOKALO,
POD NJENIMI STOPALI.

OJ MRAVLJICA, POŽREŠNICA,
LE KAJ JE NAREDILA?
ŠE BIKA JE POHRUSTALA,
ROGE JE LE PUSTILA.

SEVEDA, TO JE ČISTO RES:
ZAKAJ SE BIK ŠOPIRI?
ŠEST ČRNIH NOG IMA MRAVLJICA,
BIK PA IMA LE ŠTIRI.

ČE SLIŠIŠ HUDO MRAVLJICO
PO SVETU GODRNJATI,
OBRNI SE IN ZBEŽI PROČ,
KAR ZMOREJO PODPLATI!

1. Označi presečišča črt in jih poimenuj.



2. Poveži točki **A in **C** z ravno črto, točki **B** in **D** pa s krivo črto. Črti naj se sekata v treh točkah. Točke označi in poimenuj.**

x

B

x

A

x

C

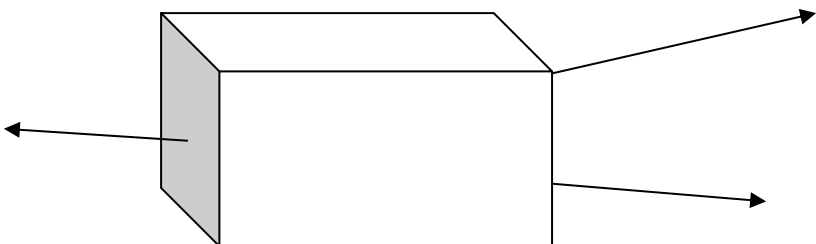
x

D

3. Poimenuj označene dele. Dopolni.



Lik se imenuje _____.



Kvader je _____.

4. Nadaljuj vzorec.



5. Preberi trditve in ustrezno obkroži.

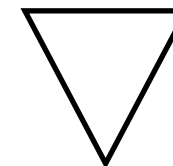


Kvader ima 12 robov in 6 oglišč. DA NE

Kvadrat omejujejo tri enako dolge stranice. DA NE

Kocka ima 6 enako velikih ploskev. DA NE

Pravokotnik ima po dve in dve stranici enako dolgi. DA NE

6. Likom nariši črte tako, da bodo simetrični.



7. Je vzorec pravilen ali nepravilen? Obkroži.

Υ Ω Μ ε Υ Ω Μ ε Υ Ω Μ ε Υ Ω Μ ε Υ Ω Μ ε
PRAVILNO NEPRAVILNO