

## Spoštovani učenci 4. razreda

V torek boste:

- ponavljali in utrjevali besedišče na temo »šolske potrebščine«
- se naučili zapisati šolske potrebščine

Sproti ali najkasneje do petka mi pošljite dokaze vašega dela (poslikano/skenirano nalogo) na elektronski naslov [slavica.balek@guest.arnes.si](mailto:slavica.balek@guest.arnes.si)

V primeru, da vam karkoli ne bo jasno ali da boste naleteli na težave pri delu, me lahko kontaktirate na el. naslov [slavica.balek@guest.arnes.si](mailto:slavica.balek@guest.arnes.si)

Želim vam uspešno delo, pazite nase in ostanite zdravi.

Lep pozdrav,  
učiteljica Slavica Balek Haddaoui

### NAVODILA ZA DELO:

#### 1. VAJA ZA SLUŠNO RAZUMEVANJE <http://e-gradiva.com/dokumenti/IUD/IUD1/u5.html>

Med slušnimi posnetki izberi 5. posnetek DZ Seite 43 Ü3, kot kaže slika spodaj. Poslušaj posnetek, v katerem Tim, Ethan in Matthew pripovedujejo, kaj se nahaja v njihovi šolski torbi.

DZ Seite 43 Ü3 - Wem gehört welche Schultasche?



**2. WEM GEHÖRT WELCHE SCHULTASCHE? (KOMU PRIPADA KATERA ŠOLSKA TORBA?):** poslušaj posnetek večkrat in v delovnem zvezku na str. 43 pri vaji 3 pravilno poveži.

 **Araya kommt aus Thailand**

🎧 Hör zu. Wem gehört welche Schultasche? 🖋️ Verbinde.  
[Poslušaj. Komu pripada šolska torba? Poveži.]



A



B



C



Matthew



Ethan



Tim

**3. KREUZWORTRÄTSEL(križanka)**

[https://www.bookwidgets.com/play/NGCBGE?teacher\\_id=6599909971066880](https://www.bookwidgets.com/play/NGCBGE?teacher_id=6599909971066880)

Pri križanki najprej klikni na številko levo (waagerecht – vodoravno: slike na levi) ali na številko desno (senkrecht – navpično: slike na desni strani), kot kaže primer spodaj za šolsko torbo – rumeno polje.

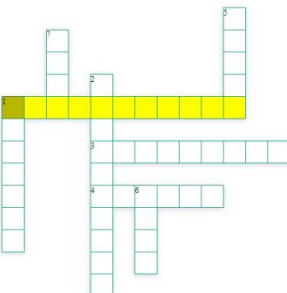
Šele po kliku na ustrezno številko levo ali desno, vpiši velike črke. Če se začetna črka ponovi npr. vodoravno in navpično (primer: šolska torba – šilček), začetno črko zapiši še enkrat. Če si križanko pravilno rešil, se na koncu obarvajo vsa polja zelena.

**Waagerecht**

1.

3.

4.



**Senkrecht**


1.

2.


5.

6.


7.




1




3




4




1




2



5



6



7