

## NAR 6

- REŠITE PREVERJANJE ZNANJA IN TAKO PONOVI TE DOSEDANJE SNOV

1. Naštej nežive in žive dejavnike okolja.

Neživi:

---

---

---

Živi:

---

---

---

2. Primerjaj način gradnje in razloži, kako je gradnja prilagojena dejavnikom okolja in potrebam ljudi:

A v gorskem svetu



---

---

---

---

B v primorskem svetu



---

---

---

---

3. Opiši, kako so se rastline prilagodile na življenje :

 V VISOKOGORJU:




---

---

---

---

 V VODNEM OKOLJU:



---




---


---

---

4. Dopolni. Pomagaj si z besedami *kamninski krog, zrn, kalcit, minerali, skorjo*.

*Kamnine so povsod okoli nas. Sestavljene so iz \_\_\_\_\_, ki se imenujejo \_\_\_\_\_ . V Sloveniji je najpogostejši mineral \_\_\_\_\_, glavna sestavina kamnine apnenca. Kamnine skupaj z minerali sestavljajo celotno zemeljsko \_\_\_\_\_ in vso notranjost Zemlje. Kamnine se ves čas spreminjajo. Nastajanje, razpadanje in spreminjanje kamnin skozi dolga časovna obdobja imenujemo \_\_\_\_\_.*

- PRST NASTANE Z DELOVANJEM NEŽIVIH IN ŽIVIH DEJAVNIKOV OKOLJA; učbenik str. 94 (?)
  -  Preberete v učbeniku
  -  V zvezke zapišete naslov in pomembne stvari
  -  Prerišete sliko



Prosim, da mi pošljete fotografije izdelkov na naslov: [valerijagrobelnik@gmail.com](mailto:valerijagrobelnik@gmail.com)!

